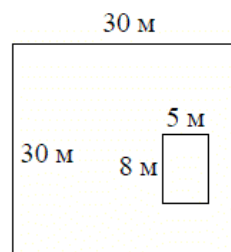


## Версия варианта для печати

- 1 Найдите значение выражения  $\left(\frac{11}{30} - \frac{17}{36}\right) : \frac{19}{45}$ .
- 2 Найдите значение выражения  $\frac{5^3 \cdot 10^{-3}}{2^{-10}}$ .
- 3 На пост председателя школьного совета претендовали два кандидата. В голосовании приняли участие 189 человек. Голоса между кандидатами распределились в отношении 2:7. Сколько голосов получил победитель?
- 4 Площадь треугольника со сторонами  $a$ ,  $b$ ,  $c$  можно найти по формуле Герона  $S = \sqrt{p(p-a)(p-b)(p-c)}$ , где  $p = \frac{a+b+c}{2}$ . Найдите площадь треугольника со сторонами 7, 15, 20.
- 5 Найдите значение выражения  $20\sqrt{3} \cos 390^\circ$ .
- 6 На день рождения полагается дарить букет из нечётного числа цветов. Тюльпаны стоят 55 рублей за штуку. У Вани есть 400 рублей. Из какого наибольшего числа тюльпанов он может купить букет Маше на день рождения?
- 7 Найдите корень уравнения  $\sqrt{16-4x} = 2$ .
- 8 Дачный участок имеет форму квадрата, стороны которого равны 30 м. Размеры дома, расположенного на участке и имеющего форму прямоугольника, — 8 м × 5 м. Найдите площадь оставшейся части участка. Ответ дайте в квадратных метрах.



- 9 Установите соответствие между величинами и их возможными значениями: к каждому элементу первого столбца подберите соответствующий элемент из второго столбца.

ВЕЛИЧИНЫ	ВОЗМОЖНЫЕ ЗНАЧЕНИЯ
А) толщина волоса	1) 40 000 км
Б) рост новорожденного ребёнка	2) 5 м
В) длина футбольного поля	3) 0,1 мм
Г) длина экватора	4) 90 м

В таблице под каждой буквой, соответствующей величине, укажите номер её возможного значения.

Ответ:

А	Б	В	Г

- 10** На экзамене по геометрии школьник отвечает на один вопрос из списка экзаменационных вопросов. Вероятность того, что это вопрос по теме «Тригонометрия», равна 0,3. Вероятность того, что это вопрос по теме «Вписанная окружность», равна 0,25. Вопросов, которые одновременно относятся к этим двум темам, нет. Найдите вероятность того, что на экзамене школьнику достанется вопрос по одной из этих двух тем.

- 11** В таблице приведены размеры штрафов за превышение максимальной разрешённой скорости, зафиксированное с помощью средств автоматической фиксации, установленных на территории России с 1 сентября 2013 года.

Превышение скорости, км/ч	21–40	41–60	61–80	81 и более
Размер штрафа, руб.	500	1000	2000	5000

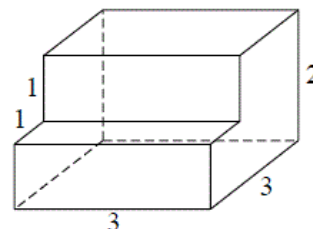
Какой штраф должен заплатить владелец автомобиля, зафиксированная скорость которого составила 195 км/ч на участке дороги с максимальной разрешённой скоростью 110 км/ч?

- 12** Для обработки дачного участка дачнику необходимо приобрести лопату, тяпку, вилы и грабли. В магазине продаются наборы инструментов, некоторые наборы состоят только из одного инструмента. Цены приведены в таблице.

Номер набора	Инструменты	Стоимость (руб.)
1	лопата, вилы	380
2	вилы	210
3	грабли	170
4	лопата	130
5	тяпка, грабли	410
6	тяпка, вилы	460

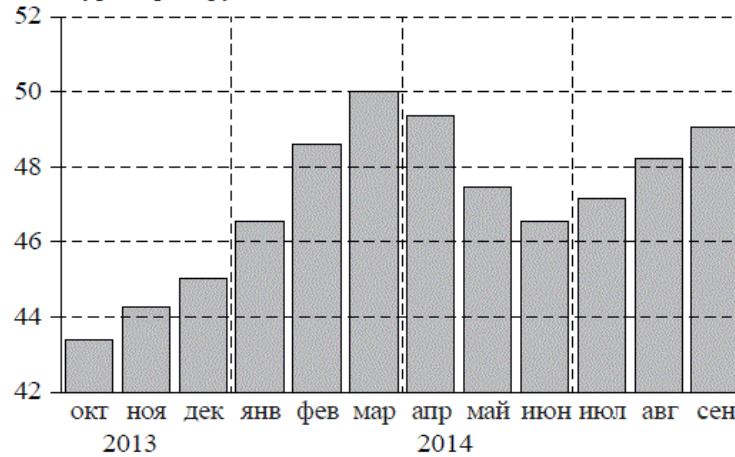
Пользуясь таблицей, соберите полный комплект необходимых инструментов так, чтобы суммарная стоимость была наименьшей. В ответе для собранного комплекта укажите номера наборов без пробелов, запятых и других дополнительных символов.

- 13** Деталь имеет форму изображённого на рисунке многогранника (все двугранные углы прямые). Цифры на рисунке обозначают длины рёбер в сантиметрах. Найдите объём этой детали. Ответ дайте в кубических сантиметрах.



14

На диаграмме изображён среднемесячный курс евро в период с октября 2013 года по сентябрь 2014 года. По горизонтали указываются месяц и год, по вертикали — курс евро в рублях.



Пользуясь диаграммой, поставьте в соответствие каждому из указанных периодов времени характеристику курса евро.

**ПЕРИОДЫ ВРЕМЕНИ**

- А) октябрь–декабрь 2013 г.  
 Б) январь–март 2014 г.  
 В) апрель–июнь 2014 г.  
 Г) июль–сентябрь 2014 г.

**ХАРАКТЕРИСТИКИ КУРСА ЕВРО**

- 1) содержит месяц с наибольшим курсом евро за период с октября 2013 года по сентябрь 2014 года  
 2) содержит месяц с наименьшим курсом евро за период с октября 2013 года по сентябрь 2014 года  
 3) среднемесячный курс евро падал все месяцы периода  
 4) в последний месяц периода средний курс евро был больше 48 рублей и меньше 50 рублей за 1 евро

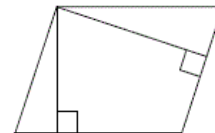
В таблице под каждой буквой укажите соответствующий номер.

Ответ:

А	Б	В	Г

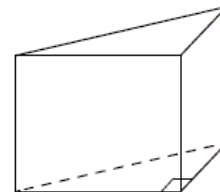
15

Стороны параллелограмма равны 8 и 16. Высота, опущенная на меньшую сторону, равна 12. Найдите высоту, опущенную на вторую сторону параллелограмма.



16

В основании прямой призмы лежит прямоугольный треугольник, один из катетов которого равен 3, а гипотенуза равна  $3\sqrt{2}$ . Найдите объём призмы, если её высота равна 6.

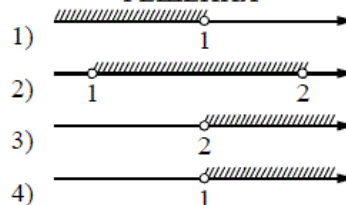


- 17 Каждому из четырёх неравенств в левом столбце соответствует одно из решений из правого столбца. Установите соответствие между неравенствами и множествами их решениями.

НЕРАВЕНСТВА

- А)  $\frac{(x-2)^2}{x-1} < 0$   
 Б)  $2^{-x} < 0,5$   
 В)  $\log_2 x > 1$   
 Г)  $(x-1)(x-2) < 0$

РЕШЕНИЯ



Впишите в приведённую в ответе таблицу под каждой буквой соответствующую цифру.

Ответ:

А	Б	В	Г

- 18 В компании из 20 человек 15 человек пользуется социальной сетью «Facebook», а 10 человек — социальной сетью «ВКонтакте». Выберите утверждения, которые следуют из приведённых данных.  
 В этой компании

- 1) найдётся хотя бы 5 человек, пользующихся обеими сетями
- 2) найдётся человек, который не пользуется ни сетью «Facebook», ни сетью «ВКонтакте»
- 3) не больше 10 человек пользуются обеими сетями
- 4) не найдётся ни одного человека, пользующегося только сетью «Facebook»

В ответе запишите номера выбранных утверждений без пробелов, запятых и других дополнительных символов.

- 19 Приведите пример четырёхзначного числа, кратного 24, произведение цифр которого равно 16. В ответе укажите ровно одно такое число.

- 20 Саша пригласил Петю в гости, сказав, что живёт в восьмом подъезде в квартире №468, а этаж сказать забыл. Подойдя к дому, Петя обнаружил, что дом двенадцатиэтажный. На каком этаже живёт Саша? (На каждом этаже число квартир одинаково, номера квартир в доме начинаются с единицы.)