

Версия варианта для печати

1 Найдите значение выражения $\left(\frac{11}{30} - \frac{17}{36}\right) : \frac{19}{45}$.

2 Найдите значение выражения $\frac{5^3 \cdot 10^{-3}}{2^{-10}}$.

3 Налог на доходы составляет 13% от заработной платы. После удержания налога на доходы Мария Константиновна получила 13 050 рублей. Сколько рублей составляет заработная плата Марии Константиновны?


4 Зная длину своего шага, человек может приближённо подсчитать пройденное им расстояние s по формуле $s = nl$, где n — число шагов, l — длина шага. Какое расстояние прошёл человек, если $l = 80$ см, $n = 1100$? Ответ выразите в километрах.

5 Найдите значение выражения $\log_3 40,5 + \log_3 6$.

6 В среднем за день во время конференции расходуется 70 пакетиков чая. Конференция длится 4 дня. В пачке чая 100 пакетиков. Какого наименьшего количества пачек чая хватит на все дни конференции?

7 Найдите корень уравнения $2 + 9x = 4x + 3$.

8 Участок земли имеет прямоугольную форму. Стороны прямоугольника 25 м и 70 м. Найдите длину забора (в метрах), которым нужно огородить участок, если в заборе нужно предусмотреть ворота шириной 4 м.



9 Установите соответствие между величинами и их возможными значениями: к каждому элементу первого столбца подберите соответствующий элемент из второго столбца.

ВЕЛИЧИНЫ	ВОЗМОЖНЫЕ ЗНАЧЕНИЯ
А) толщина волоса	1) 40 000 км
Б) рост новорожденного ребёнка	2) 5 м
В) длина футбольного поля	3) 0,1 мм
Г) длина экватора	4) 90 м

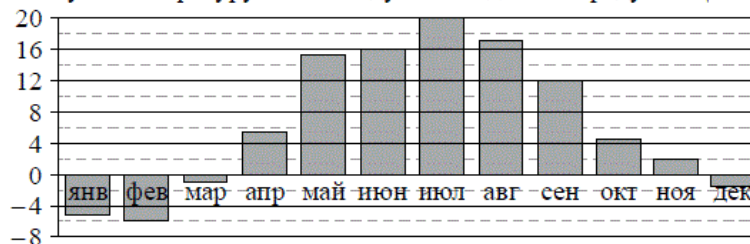
В таблице под каждой буквой, соответствующей величине, укажите номер её возможного значения.

Ответ:

А	Б	В	Г

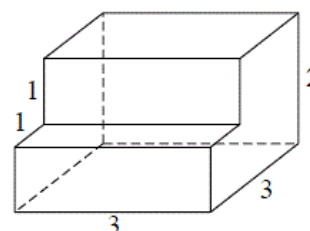
10 По отзывам покупателей Василий Васильевич оценил надёжность двух интернет-магазинов. Вероятность того, что нужный товар доставят из магазина А, равна 0,8. Вероятность того, что этот товар доставят из магазина Б, равна 0,88. Василий Васильевич заказал товар сразу в обоих магазинах. Считая, что интернет-магазины работают независимо друг от друга, найдите вероятность того, что ни один магазин не доставит товар.

- 11 На диаграмме показана среднемесячная температура воздуха в Минске за каждый месяц 2003 года. По горизонтали указываются месяцы, по вертикали — температура в градусах Цельсия. Определите по диаграмме наибольшую среднемесячную температуру в 2003 году. Ответ дайте в градусах Цельсия.

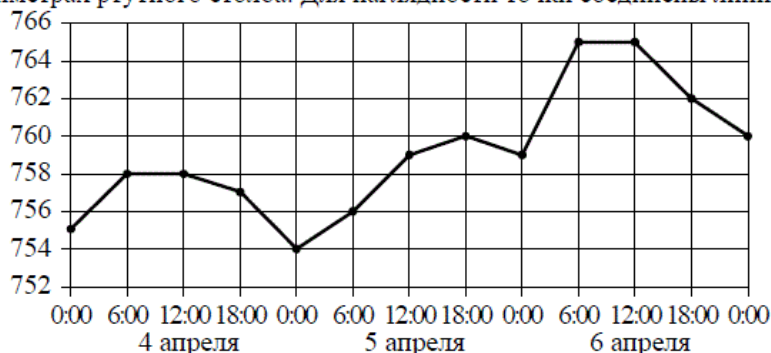


- 12 Семья из трёх человек планирует поехать из Санкт-Петербурга в Вологду. Можно ехать поездом, а можно — на своей машине. Билет на поезд на одного человека стоит 770 рублей. Автомобиль расходует 9 литров бензина на 100 километров пути, расстояние по шоссе равно 700 км, а цена бензина равна 30 рублей за литр. Сколько рублей придётся заплатить за наиболее дешёвую поездку на троих?

- 13 Деталь имеет форму изображённого на рисунке многогранника (все двугранные углы прямые). Цифры на рисунке обозначают длины рёбер в сантиметрах. Найдите объём этой детали. Ответ дайте в кубических сантиметрах.



- 14 На рисунке точками изображено атмосферное давление в городе N на протяжении трёх суток с 4 по 6 апреля 2013 года. в течение суток давление измеряется 4 раза: ночью (00:00), утром (06:00), днём (12:00) и вечером (18:00). По горизонтали указывается время суток и дата, по вертикали — давление в миллиметрах ртутного столба. Для наглядности точки соединены линиями.



Пользуясь рисунком, поставьте в соответствие каждому из указанных периодов времени характеристику давления в городе N в течение этого периода.

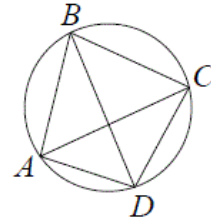
ПЕРИОДЫ ВРЕМЕНИ	ХАРАКТЕРИСТИКИ ДАВЛЕНИЯ
А) ночь 4 апреля (с 0 до 6 часов)	1) наибольший рост давления
Б) день 5 апреля (с 12 до 18 часов)	2) давление достигло 758 мм рт. ст.
В) ночь 6 апреля (с 0 до 6 часов)	3) давление не менялось
Г) утро 6 апреля (с 6 до 12 часов)	4) наименьший рост давления

В таблице под каждой буквой укажите соответствующий номер.

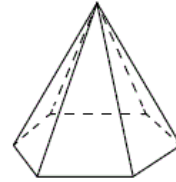
Ответ:

А	Б	В	Г

- 15) Четырёхугольник $ABCD$ вписан в окружность. Угол ABC равен 70° , угол CAD равен 49° . Найдите угол ABD . Ответ дайте в градусах.



- 16) Стороны основания правильной шестиугольной пирамиды равны 14, боковые рёбра равны 25. Найдите площадь боковой поверхности этой пирамиды.



- 17) Каждому из четырёх неравенств в левом столбце соответствует одно из решений из правого столбца. Установите соответствие между неравенствами и множествами их решениями.

НЕРАВЕНСТВА

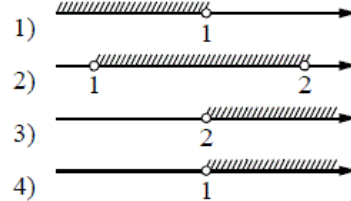
А) $\frac{(x-2)^2}{x-1} < 0$

Б) $2^{-x} < 0,5$

В) $\log_2 x > 1$

Г) $(x-1)(x-2) < 0$

РЕШЕНИЯ



Впишите в приведённую в ответе таблицу под каждой буквой соответствующую цифру.

Ответ:

А	Б	В	Г

- 18) Виктор старше Дениса, но младше Егора. Андрей не старше Виктора. Выберите утверждения, которые следуют из приведённых данных.

- 1) Егор самый старший из указанных четырёх человек.
- 2) Андрей и Виктор не могут быть одного возраста.
- 3) Андрей и Денис одного возраста.
- 4) Денис младше Егора.

В ответе запишите номера выбранных утверждений без пробелов, запятых и других дополнительных символов.

- 19) Приведите пример трёхзначного натурального числа, большего 500, которое при делении на 3, на 4 и на 5 даёт в остатке 2 и в записи которого есть только две различные цифры. В ответе укажите ровно одно такое число.

- 20) Во всех подъездах дома одинаковое число этажей, а на каждом этаже одинаковое число квартир. При этом число этажей в доме больше числа квартир на этаже, число квартир на этаже больше числа подъездов, а число подъездов больше одного. Сколько этажей в доме, если всего в нём 110 квартир?