


## Версия варианта для печати

- 1 Найдите значение выражения  $\frac{1}{\frac{1}{9} - \frac{1}{12}}$ .
- 2 Найдите произведение чисел  $7 \cdot 10^5$  и  $1,3 \cdot 10^{-7}$ .
- 3 В школе французский язык изучают 167 учащихся, что составляет 25% от числа всех учащихся школы. Сколько учащихся в школе?
- 4 Длина медианы  $m_c$ , проведённой к стороне  $c$  треугольника со сторонами  $a$ ,  $b$  и  $c$ , вычисляется по формуле  $m_c = \frac{\sqrt{2a^2 + 2b^2 - c^2}}{2}$ . Треугольник имеет стороны 5, 9 и 10. Найдите длину медианы, проведённой к стороне длины 9.
- 5 Найдите значение выражения  $(2\sqrt{5} - 5) \cdot (2\sqrt{5} + 5)$ .
- 6 На день рождения полагается дарить букет из нечётного числа цветов. Хризантемы стоят 50 рублей за штуку. У Вани есть 500 рублей. Из какого наибольшего числа хризантем он может купить букет Маше на день рождения?
- 7 Найдите корень уравнения  $2 + 9x = 4x + 3$ .

- 8 Участок земли имеет прямоугольную форму. Стороны прямоугольника 25 м и 70 м. Найдите длину забора (в метрах), которым нужно огородить участок, если в заборе нужно предусмотреть ворота шириной 4 м.



- 9 Установите соответствие между величинами и их возможными значениями: к каждому элементу первого столбца подберите соответствующий элемент из второго столбца.

ВЕЛИЧИНЫ	ВОЗМОЖНЫЕ ЗНАЧЕНИЯ
А) высота потолка в комнате	1) 102 м
Б) длина тела кошки	2) 2,8 м
В) высота Исаакиевского собора в Санкт-Петербурге	3) 3650 км
Г) длина Оби	4) 54 см

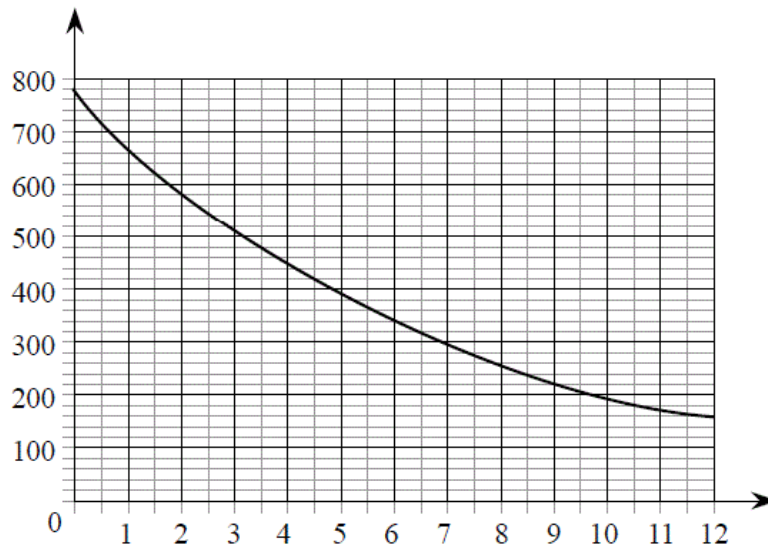
В таблице под каждой буквой, соответствующей величине, укажите номер её возможного значения.

Ответ:

А	Б	В	Г

- 10 В чемпионате по гимнастике участвуют 64 спортсменки: 20 из Японии, 28 из Китая, остальные — из Кореи. Порядок, в котором выступают гимнастки, определяется жребием. Найдите вероятность того, что спортсменка, выступающая первой, окажется из Кореи.

- 11 На графике изображена зависимость атмосферного давления (в миллиметрах ртутного столба) от высоты над уровнем моря (в километрах). На какой высоте (в км) летит воздушный шар, если барометр, находящийся в корзине шара, показывает давление 580 миллиметров ртутного столба?



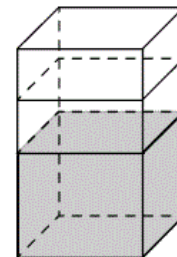
- 12 В городском парке имеется пять аттракционов: карусель, колесо обозрения, автодром, «Ромашка» и «Весёлый тир». В кассах продаётся шесть видов билетов, каждый из которых позволяет посетить один или два аттракциона. Сведения о стоимости билетов представлены в таблице.

Вид билета	Набор аттракционов	Стоимость (руб.)
1	Колесо обозрения, «Весёлый тир»	500
2	«Ромашка», карусель	350
3	Карусель, колесо обозрения	150
4	Автодром, «Весёлый тир»	500
5	«Ромашка»	250
6	Автодром, «Ромашка»	450

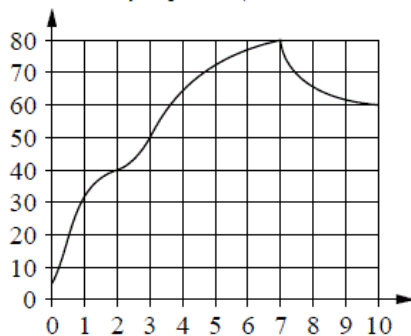
Андрей хочет посетить все пять аттракционов, но имеет в наличии только 900 рублей. Какие виды билетов он должен купить?

В ответе укажите номера, соответствующие видам билетов, без пробелов, запятых и других дополнительных символов.

- 13 В бак, имеющий форму прямой призмы, налито 12 л воды. После полного погружения в воду детали, уровень воды в баке поднялся в 1,5 раза. Найдите объём детали. Ответ дайте в кубических сантиметрах, зная, что в одном литре 1000 кубических сантиметров.



- 14 На графике изображена зависимость температуры от времени в процессе разогрева двигателя легкового автомобиля. На горизонтальной оси отмечено время в минутах, прошедшее с момента запуска двигателя, на вертикальной оси — температура двигателя в градусах Цельсия.



Пользуясь графиком, поставьте в соответствие каждому интервалу времени характеристику температуры.

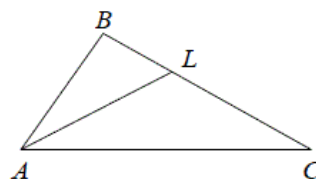
ИНТЕРВАЛЫ ВРЕМЕНИ	ХАРАКТЕРИСТИКИ
А) 0–1 мин.	1) температура росла и на всём интервале была выше $60^{\circ}\text{C}$
Б) 2–3 мин.	2) температура падала
В) 4–6 мин.	3) температура росла быстрее всего
Г) 7–9 мин.	4) температура находилась в пределах от $40^{\circ}\text{C}$ до $50^{\circ}\text{C}$

В таблице под каждой буквой укажите соответствующий номер.

Ответ:

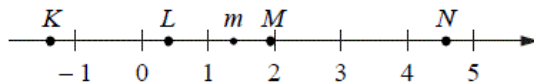
А	Б	В	Г

- 15 В треугольнике  $ABC$  проведена биссектриса  $AL$ , угол  $ALC$  равен  $150^{\circ}$ , угол  $ABC$  равен  $127^{\circ}$ . Найдите угол  $ACB$ . Ответ дайте в градусах.



- 16 Даны два шара с радиусами 2 и 1. Во сколько раз объём первого шара больше объёма второго?

- 17 На прямой отмечено число  $m$  и точки  $K, L, M$  и  $N$ .



Установите соответствие между указанными точками и числами из правого столбца, которые им соответствуют.

ТОЧКИ	ЧИСЛА
А) $K$	1) $6 - m$
Б) $L$	2) $m^2$
В) $M$	3) $m - 1$
Г) $N$	4) $-\frac{2}{m}$

Впишите в приведённую в ответе таблицу под каждой буквой соответствующую цифру.

Ответ:

А	Б	В	Г

**18** В доме Кости больше этажей, чем в доме Олега, в доме Тани меньше этажей, чем в доме Олега, а в доме Феди больше этажей, чем в Танином доме. Выберите утверждения, которые следуют из приведённых данных.

- 1) Дом Тани самый малоэтажный среди перечисленных четырёх.
- 2) В доме Олега меньше этажей, чем в доме Феди.
- 3) В Костином доме больше этажей, чем в Танином.
- 4) Среди этих четырёх домов точно нет двух с одинаковым количеством этажей.

В ответе запишите номера выбранных утверждений без пробелов, запятых и других дополнительных символов.

**19** Приведите пример трёхзначного натурального числа, большего 500, которое при делении на 8 и на 5 даёт равные ненулевые остатки и средняя цифра которого является средним арифметическим крайних цифр. В ответе укажите ровно одно такое число.

**20** На кольцевой дороге расположены четыре бензоколонки: А, В, С и D. Расстояние между А и В — 50 км, между А и С — 40 км, между С и D — 25 км, между D и А — 35 км (все расстояния измеряются вдоль кольцевой дороги в кратчайшую сторону).  
Найдите расстояние между В и С.

---

---